



# İMAM HATİP OKULLARI LGS ÇEVİRİMİÇİ DENEME SINAVI SÖZEL KİTAPÇIĞI



KOORDİNATÖR OKUL: NİYAZİ MISRİ ANADOLU İMAM HATİP LİSESİ

1. Aşağıdakilerden hangisinde “gitmek” sözcüğünün anlamı yanlış verilmiştir?

|    | Cümleler  | Anlamlar                   |
|----|---|----------------------------|
| A) | Kazandığı tüm para, evin masraflarına gidiyor.                            | Tüketilmek                 |
| B) | Beş litrelik yağ, iki ay gidiyor.   | Yeter olmak, yetmek        |
| C) | Bu işin sonu nereye gidecek biz de bilmiyoruz.                            | Bir şey zarar görmüş olmak |
| D) | Gösterdiğin saç modeli sana gider, bence saçını bu şekilde kestirmelisin. | Yakışmak, yaraşmak         |

2. Resfebe; sözcük veya söz gruplarının harf, sayı ve görsellerle temsil edilmesi esasına dayanan bir oyundur. Resfebe oluşturma ile ilgili bazı kurallar şunlardır:

- Resfebe anlatımında kullanılan sayı, işaret, resim, harf ya da sözcüklerin duruş yönünden biçimine kadar her durumun ve olasılığın değerlendirilmesi gerekir. Örneğin “ev” görseli ters çevrildiğinde “ve” olarak okunabilir.
- Matematik sembolleri kullanılabilir.
- Bazı görsellerden harf eksiltme ya da ekleme yapılabilir. Örneğin “Bal” yazmak için “balık” görselinden “-”işareti kullanılarak “-ık” hecesi çıkarılabilir.
- Hecelerin renklerinden, konumlarından faydalanılabilir.

I.



II.



III.



IV.



Verilen bilgiler dikkate alındığında aşağıdakilerden hangisi numaralanmış resfebelerden herhangi birinin karşıladığı bir sözcük değildir?

A) Boğaz Köprüsü

B) Ranza

C) Okyanus

D) Sarımsak

3. "İklim değişikliğinin yaşandığı su götürmez bir gerçek, tartışmaya açık olan ise insanlığın bu durum karşısında ne yaptığıdır." **cümlesindeki altı çizili söz öbeğinin cümleye kattığı anlam aşağıdakilerden hangisidir?**

- A) Pek dikkat çekmeyen, önemsenmeyen durum
- B) Çoğu insan tarafından fark edilmeyen olgu
- C) Şüpheyle karşılanan, kanıtı ihtiyaç duyulan
- D) Başka bir yoruma elverişli olmayan, kesin

4. (I) Sağlık çalışanlarına yönelik şiddetin arttığı bugünlerde, hastaların yanı sıra hastane çalışanlarının sahip olduğu haklar zaman zaman yazılı ve görsel basında yer alıyor. (II) Çeşitli sebeplerden yaşanan ve kimi zaman fiziksel şiddete varan, son derece vahim ve üzücü olaylar bu hakların karşılıklı olarak ihlâl edilmesinden kaynaklanabiliyor. (III) Hasta olan kişinin ruhsal, duygusal ve psikolojik açıdan oldukça hassas olduğu düşünülürse hastanelerdeki danışma ve yönlendirme birimlerine onları sakinleştirmek, rahatlatmak ve hastaların işini kolaylaştırmak adına çok önemli görev düşüyor. (IV) Sağlık sisteminin düzenli olarak işleyebilmesi için hasta ile sağlık personelinin iletişiminin saygı, anlayış ve duygudaşlık esasına dayanması gerektiğine inanıyorum.

**Bu metindeki numaralanmış cümlelerden hangisi kişisel görüş içermemektedir?**

- A) I.
- B) II.
- C) III.
- D) IV.

5. İyi bir yazar olmak için önce iyi bir okur olmak gerekir. ....

**Bu cümlelerin sonuna anlam akışına göre aşağıdakilerden hangisi getirilemez?**

- A) Çünkü yazabilmek için yeterince malzemeye sahip olmak gerekir, bu da ancak okumakla elde edilir.
- B) Okumayan kişilerin yazdıklarından tesadüfen bir iki satır güzel cümle çıkabilir ama sonrası hikâyeyi kurtarmaya yetmez.
- C) Yazar olmak için doğuştan gelen yeteneğinize güvenmekle kalmamalı, okuyarak yazarlığınıza yatırım yapmalısınız.
- D) Yazar olmayı çok isteyen kişinin yapması gereken şey, söylenenlere kulak tıkamak ve sadece yazmaktır.

6. Ballıbabagiller familyasından olan kekik; güneşli yerleri seven, genellikle çorak topraklarda yetişen çok yıllık bir bitkidir. Boyları 15 - 40 cm arasındadır. Yaprakları karşılıklı, bir sonraki ile ters, oval, eliptik veya yumurta şeklinde, koyu yeşil renkli, sapsız veya kısa saplıdır. Çiçekleri geriye doğru çan şeklinde, pembe, pembemsi kırmızı, eflatun veya pembemsi beyaz renktedir. Kekik; ilk çağlardan itibaren ilaç, gıda, içecek, tekstil, boya, parfümeri ve kozmetik gibi farklı alanlarda kullanılmaktadır. Ülkemizde en çok Doğu ve Güneydoğu Anadolu Bölgesi'nde yetişen kekiğin birçok hastalığa iyi geldiği yüzyıllardır bilinmektedir. Hem taze hem de kuru olarak kullanılabilen kekik, lezzeti ile de dünya ve Türk mutfaklarının vazgeçilmezlerindedir.

**Bu metinde kekikle ilgili aşağıdakilerden hangisine değinilmemiştir?**

- A) Ülkemizde yetiştiği yerlere
- B) Hangi hastalıklara iyi geldiğine
- C) Yaprak ve çiçeklerinin özelliklerine
- D) Hangi alanlarda kullanıldığına

7. Farklı zamanlarda aynı civarda kurulan uygarlıkların kalıntılarının yer aldığı beş katmanlı bir tümülüste yapılan arkeolojik kazı çalışmaları sonucu geçmişten günümüze ve derinden yüze doğru sırasıyla Hitit, Roma, Bizans, Selçuklu ve Osmanlı'ya ait bazı tarihî eserlere rastlanmıştır. Bulunan kalıntılar ile ilgili bilinenler şunlardır:






- Mozaik, heykel, amfora (iki kulplu, dibi sivri, dar boyunlu, karnı geniş testi), altın sikke (madenî para) ve çini bulunan eserlerdir.
- Büyük bir kısmı av sahnesiyle hayvan mücadelelerinden oluşan mozaik, IV. uygarlık katmanında bulunmuştur.
- Yüze en yakın noktada altın sikke, en derinde ise heykel bulunmuştur.
- Arkeologlar önce çiniyi ve sonra amforaları gün yüzüne çıkarmışlardır.

Bu bilgilere göre uygarlık ve eserlerin doğru eşleştirmesi aşağıdakilerin hangisidir?

A)

| V. Katman   | IV. Katman  | III. Katman   | II. Katman  | I. Katman   |
|---|---|---|---|---|
| HİTİT   | ROMA  | BİZANS  | SELÇUKLU  | OSMANLI   |
|  |  |  |  |  |

B)

| V. Katman   | IV. Katman  | III. Katman   | II. Katman  | I. Katman   |
|---|---|---|---|---|
| HİTİT   | ROMA  | BİZANS  | SELÇUKLU  | OSMANLI   |
|  |  |  |  |  |

C)

| V. Katman   | IV. Katman  | III. Katman   | II. Katman  | I. Katman   |
|---|---|---|---|---|
| HİTİT   | ROMA  | BİZANS  | SELÇUKLU  | OSMANLI   |
|  |  |  |  |  |

D)

| V. Katman   | IV. Katman  | III. Katman   | II. Katman  | I. Katman   |
|---|---|---|---|---|
| HİTİT   | ROMA  | BİZANS  | SELÇUKLU  | OSMANLI   |
|  |  |  |  |  |

8. Aşağıda “çizgi animasyon tekniği” ile ilgili bilgiler karışık olarak verilmiştir:

- I. Böylece arkadan gelen ışık sayesinde üst üste konulan kâğıtların üzerindeki çizgiler birbirleriyle karşılaştırılabilir, bir sonraki resmin nereye ve nasıl yapılması gerektiği belirlenebilir.
- II. Bu alginın oluşması için saniyede 24 ayrı çizim gerekmektedir. Ancak bu durumun yüksek bir yapım maliyeti getirmesi sebebiyle genellikle yarısı kadar yani 12 kare çizim yapılır.
- III. Sadece kalem ve kâğıtla iyi bir çizim yapabilmenin ötesinde, farklı çizgi film teknikleri de kullanırlar. Genellikle; ışıklı masa denilen, çizim yüzeyi cam ve bu yüzeyin arkasında bir ışık kaynağı olan kutulardan yararlanırlar.
- IV. Çizgi animasyon, kâğıtların üzerine çizilen çizgilerin, arka arkaya hızla gösterilmesi sonucu objelerin hareket ediyormuş gibi algılanması prensibi üzerine geliştirilmiştir.
- V. Çizimleri yapan sanatçılara animatör denir. Animatörler, animasyon prensiplerini kullanarak birbiri arkası gelen resimlerdeki karakterlerin canlı gibi görünmesini sağlarlar.

**Verilen bu bilgiler anlamlı bir metin oluşturacak şekilde sıralandığında, doğru sıralama aşağıdakilerden hangisi olur?**

- A) V – III – I – IV – II      B) IV – II – V – III – I  
C) IV – III – V – I – II      D) V – IV – II – III – I

9. İnsanların bir şeyler satın alırken yaptığı tercihlerin temelinde ihtiyaçları yatıyormuş gibi gözükse de onları o tercihlere yönelten şey, diğer insanların daha önce yaptıklarını taklit etmeleridir. Bu duruma “sosyal kanıt” denir. Sosyal kanıt, en az reklam ve pazarlama kadar eski bir geçmişe sahip olduğu gibi önemli bir pazarlama kanalıdır. Tüketicilerin bir marka, ürün ya da hizmet ile ilgili fikirleri, yaptıkları yorumlar ve geri bildirimler diğer tüketicilerin bu ürüne ya da markaya olan yaklaşımlarını doğrudan etkilemektedir.

**Buna göre aşağıdaki satış tekniklerinin hangisinde sosyal kanıttan yararlanılmıştır?**

- A) Cep telefonları satan bir mağazada telefonları inceleyen Sedat Bey’e mağaza görevlisinin “Elinizdeki telefonun üretimi devam etmeyecek.” demesi üzerine Sedat Bey, o telefonu bir daha bulamayacağını düşünerek satın almıştır.
- B) Bir giyim mağazasında reyonları dolaşan Eliz Hanım, üzerinde “1 Alana 1 Bedava” yazan reyonu görmüş ve hemen o reyondan bir çift kazak satın almıştır.
- C) Sağlıklı yaşam ürünleri satan bir mağazada bir ürünü alıp almamakta kararsız olan Sibel Hanım’a mağaza görevlisi, ünlü bir sanatçının da o ürünle zayıfladığını anlattığı bir yazıyı Sibel Hanım’a göstermiş ve Sibel Hanım da ürünü satın almıştır.
- D) Bir otomobil firması yetkilisi, beğendiği otomobilin fiyatını yüksek bulan Mehmet Bey’e bir miktar indirimde bulunmuş fakat Mehmet Bey’i ikna edememiştir. Yetkilinin, bu indirim daha önceki müşterilerin hiçbirine yapmadığını gösteren birkaç satış belgesi sunması üzerine Mehmet Bey, o otomobili satın almıştır.

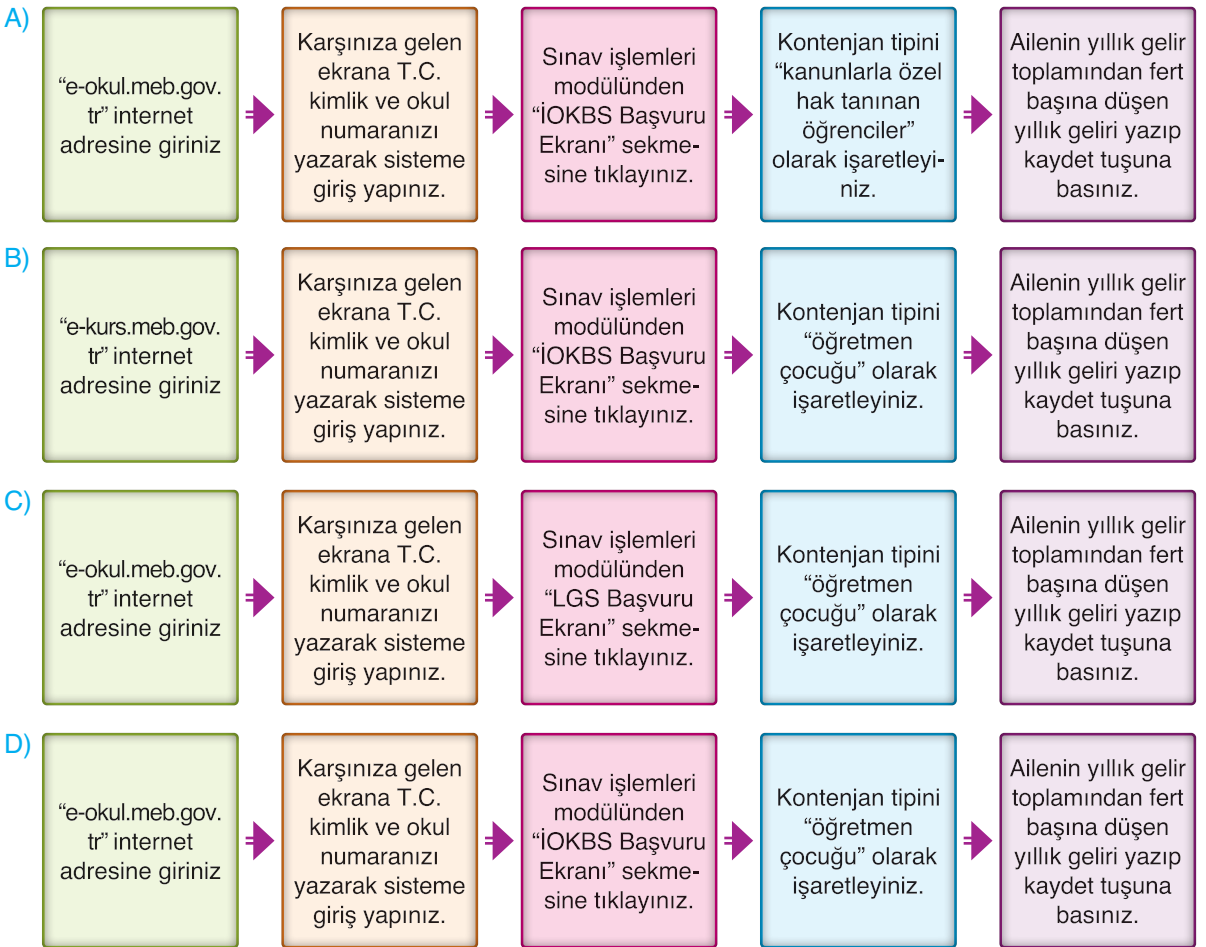
10. Milli Eğitim Bakanlığı, “İlköğretim ve Ortaöğretim Kurumları Bursluluk Sınavı (İOKBS)”nı 25 Nisan 2020 tarihinde saat 10.00’da yapacaktır. Sınava ilköğretim veya ortaöğretim kurumlarında okuyan ve ailesinin 2019 senesi yıllık gelir toplamından fert başına düşen toplam miktarın 14.640,00 (ondörtbinaltıyüz-kırk) TL’yi geçmeyen öğrenciler girebilir.

Gerekli şartları taşıyan öğrencilerin bursluluk sınavına başvuru yapabilmeleri için izleyecekleri yol aşağıda verilmiştir:

- Sisteme e-okul modülü üzerinden bireysel şifre ile giriş yapılır.
- Sınav işlemleri modülünden İlköğretim ve Ortaöğretim Kurumları Bursluluk Sınavı başvuru ekranına tıklanır.
- “Kanunlarla özel hak tanınan öğrenciler”, “öğretmen çocuğu”, “ailesinin bulunduğu yerde okul yok”, “diğer öğrenciler” şeklindeki kontenjan tiplerinden öğrencinin durumuna uygun olan kontenjan tipi işaretlenir.
- Ailenin yıllık gelir toplamından fert başına düşen yıllık gelir bölümü doldurulup kaydedilir.

MEB’e bağlı bir devlet okulunda 8. sınıf öğrencisi olan Eylül, aynı okulda Türkçe öğretmeni olarak görev yapan Gülşen Hanım’ın kızıdır. Eylül, bursluluk sınavına başvuru yapmak istemektedir.

**Bu bilgilere göre Eylül adlı öğrencinin başvuru aşamalarını gösteren algoritma aşağıdakilerden hangisidir?**





13 ve 14. soruları aşağıdaki metne göre yanıtlayınız.

Yale Halk Sağlığı Okulundan araştırmacılar, hava kirliliğinin ölümcül olmayan kalp krizlerine neden olabileceğini gösteren bir araştırma yaptılar. Kirli havanın içinde bulunan çok küçük parçacıkların ciddi sağlık endişesi yarattığını belirten bilim insanları, kalp krizi riskinin kirli havaya maruz kaldıktan sonraki ilk birkaç saat içerisinde yüksek olduğunu tespit ettiler. Environmental Health Perspectives'te yayımlanan çalışmada bu küçük parçacıkların çevreye yayılmasında en etkili unsurun otomobiller olduğu belirtildi. Otomobillerde egzoz emisyonunun etkisi ve elektrikli araç kullanımının önemini vurgulayan bilim insanları, uzun süredir bu çok küçük parçacıkların kalp sağlığına zarar verdiğinden şüpheleniyorlardı. Bu parçacıklar, çok küçük olduğu için kan akışına dahil olup hücrelere girebiliyor. Geçiş yüzey alanlarını kaplayabilen bu parçacıkların hassas insanlar için astım krizini tetikleyici rol oynayabileceğini gösteriyor. Ayrıca insanlarda birçok solunum hastalığına neden olan hava kirliliğinin yaşlılarda demans riskini artırdığı, yetişkin ve çocuklarda bilişsel gerilemeye neden olduğu ortaya kondu. Yine araştırmacılar, hava kirliliğine maruz kalmanın insan kemiklerinde zayıflamaya neden olduğunu da keşfetmişti.

**13. Bu metinde aşağıdakilerden hangisine değinilmemiştir?**

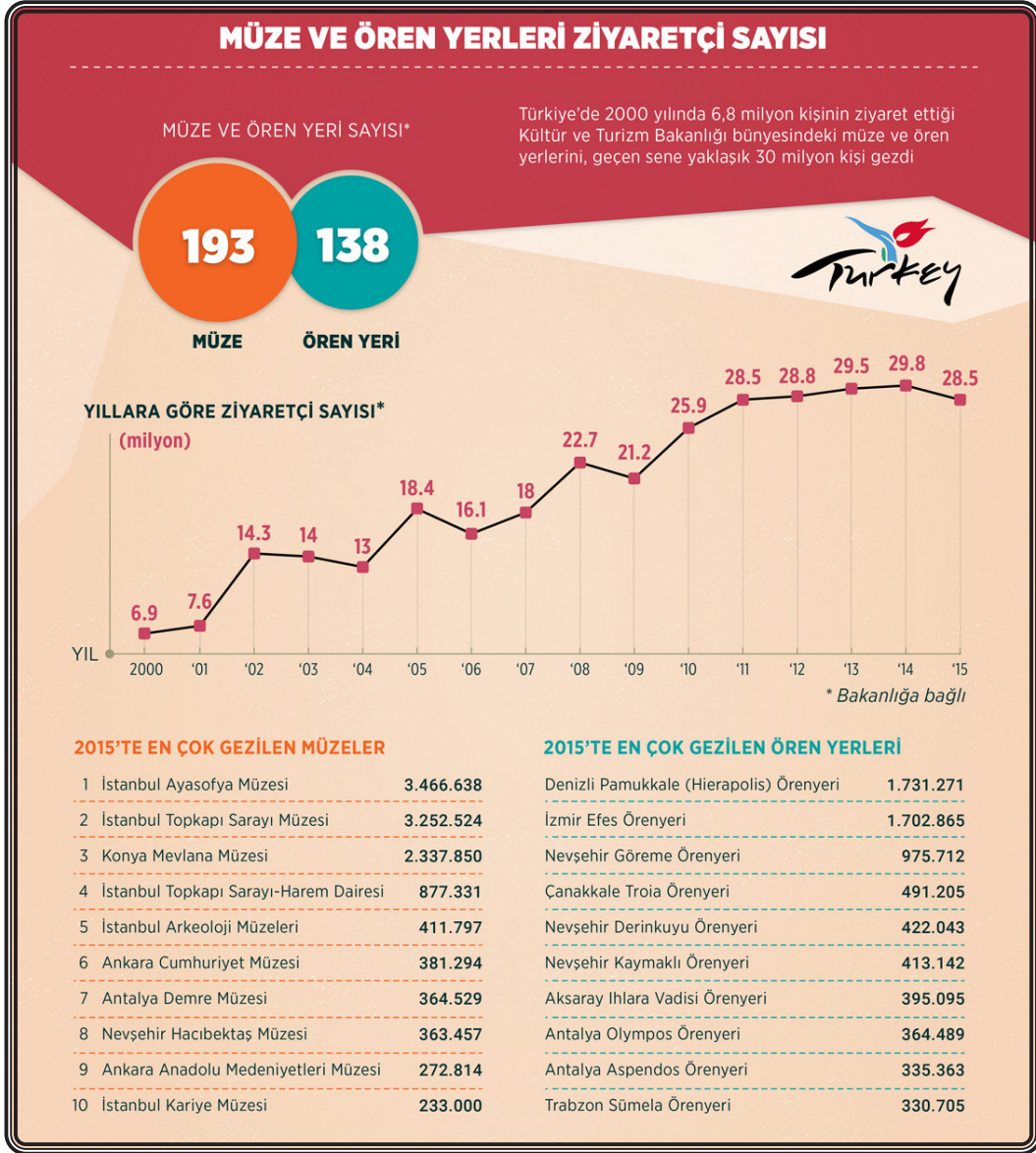
- A) Kirli hava içinde bulunan küçük parçacıkların çevreye yayılmasına en çok otomobillerin neden olduğuna
- B) Hava kirliliğinin ekosistem dengesinin bozulmasına yol açtığına
- C) Bilim insanlarının egzoz emisyonu ve elektrikli araç kullanımının önemine dikkat çektiğine
- D) Hava kirliliğinin kalp krizi de dahil birçok hastalığa neden olabileceğine

**14. Metindeki altı çizili cümlelerin anlam özelliği ile ilgili aşağıdakilerden hangisi söylenebilir?**

- A) Karşılaştırma anlamı vardır.
- B) Amaç anlamı taşır.
- C) Kişisel görüş içerir.
- D) İhtimal anlamı vardır.



15.



**Bu görselden hareketle aşağıdaki yargılardan hangisine ulaşamaz?**

- A) Listede yer alan müze ve ören yerleri arasında en az ziyaret edilen yer İstanbul Kariye Müzesi'dir.
- B) Kültür ve Turizm Bakanlığına bağlı müze sayısı, ören yeri sayısından fazladır.
- C) Müze ve ören yerlerini gezen ziyaretçi sayısı her yıl bir önceki yıla göre artış göstermiştir.
- D) Nevşehir Derinkuyu Ören Yeri'ni gezen ziyaretçilerin sayısı, İstanbul Arkeoloji Müzesi'ni gezen ziyaretçilerin sayısından fazladır.

16. • Oluşumu yüzyıllar öncesine dayanan bu şekiller her dönem insanoğlu için bir araştırma konusu olmuştur.
- Hava biraz aydınlandığında felaketin boyutunu hepimiz gördük.

**Bu cümlelerin herhangi birinde bulunmayan öge aşağıdakilerden hangisidir?**

- A) Zarf tamlayıcısı
- B) Özne
- C) Yer tamlayıcısı
- D) Nesne

17. 1. Güzü duymaya görsün ağaç  
Artık her günü bir işkence  
Bir hayale dalar her gece  
Başında gök ürperten bir taç

2. Göz kırarken ona yıldızlar  
Baharında sanıp kendini  
Çağırır eski bülbülleri  
Ağaç pırl pırl sayıklar

**Bu iki dördlükte ortak olmayan yön aşağıdakilerden hangisidir?**

- A) Her dizede eşit sayıda hece bulunması
- B) Birbirine zıt kavram veya durumun bir arada kullanılması
- C) Dize sonlarında ses benzerliğinin olması
- D) İnsan dışındaki varlığa insana ait bir özelliğin aktarılması

18. **Aşağıdaki cümlelerden hangisinde zarf-fiil, cümleye diğerlerinden farklı bir anlam katmıştır?**

- A) Sevdiğim şarkıyı radyoda duyunca çok sevindim.
- B) Bu kitabı tatile giderken havalimanındaki kitapçıdan almıştım.
- C) Telefon çalar çalmaz odadaki herkes ayağa kalktı.
- D) Öğretmen, öğrencilerini sınıfın kapısında gülümseyerek karşıladı.

19. "Merhamet duygusu, insan ilişkilerini sağlıklı yürütmeye yardımcı olur." **cümlesinin öge dizilişi aşağıdakilerden hangisinde doğru verilmiştir?**

- A) Nesne - yer tamlayıcısı - yüklem
- B) Özne - yer tamlayıcısı - yüklem
- C) Özne - yer tamlayıcısı - nesne - yüklem
- D) Nesne - zarf tamlayıcısı - yer tamlayıcısı

20. **Aşağıdaki cümlelerin hangisinde yazım yanlışı yoktur?**

- A) Sait Faik'in "Son Kuşlar" kitabını sizde okudunuz mu?
- B) Kar yağışı iç anadolu bölgesini etkisi altına almış.
- C) THY'nin uçak seferlerinde bazı aksamalar olmuş.
- D) Gelirken antep fıstığı almayı unutma.

1. Osmanlı Devleti'nin çöküntüye sürüklendiği dönemde devletin varlığını sürdürmek ve dağılmasını önlemek için bazı fikir akımları geliştirilmiştir. Bu fikir akımlarından biri olan Osmanlı Devleti sınırları içinde yaşayan herkesi hangi din ve soydan olursa olsun kaynaştırarak bir "Osmanlı Milleti" oluşturmayı amaçlamıştır. Milliyetçiliğe dayalı hareketleri durdurup devletin bütünlüğünü sağlamayı düşünmüştür. Bu akıma göre; Türk, Ermeni, Yahudi, Arnavut, Arap, Bulgar her topluluk Osmanlı Devleti'nin bir parçası olarak devletin yüceltilmesi için çalışacaktır. Osmanlı milletinin her parçası aynı hak ve sorumluluklara sahip, ayrıcalığı olmayan Osmanlı vatandaşı olacaktır. Bu düşünceyi hayata geçirmek için de meşruti yönetim zorunlu görülmüştür. Açılacak olan mecliste tüm soy ve inançlar temsil edilecektir.

**Buna göre Osmanlılık fikir akımını ortaya atanlar ile ilgili aşağıdakilerden hangisi söylenemez?**

- A) Azınlıkları devlet yönetiminde ayrıcalıklı hâle getirip devletin dağılmasını önlemek istemişlerdir.
- B) Tüm halkın ayrıcalıksız bir şekilde devlet yönetimine katılmasını istemişlerdir.
- C) Fransız İhtilali'nin Osmanlı Devleti'ne getirdiği olumsuz etkileri ortadan kaldırmayı amaçlamışlardır.
- D) Osmanlı sınırları içinde yaşayan tüm milletlerin eşit haklara sahip olması gerektiğini savunmuşlardır.

3.

"Misak-ı Millî, barış yapmak için en uygun ve en azından şartlarımızı içeren bir programdır. Barışa erişmek için bir araya getireceğimiz esasları kapsar. Fakat memleket ve milleti kurtarmak için barış yapmak yeterli değildir. Milletın gerçek kurtuluşu için yapılacak çalışmalar, ondan sonra başlayacaktır. Barıştan sonraki çalışmalarda başarılı olabilme, milletin bağımsızlığının korunmuş olmasına bağlıdır. Misak-ı Millî'nin hedefi onu temindir."

**Mustafa Kemal Paşa**

**Mustafa Kemal Paşa'nın bu sözlerine bakılarak Misak-ı Millî ile ilgili aşağıdaki yargılardan hangisine ulaşamaz?**

- A) Halk iradesinin devlet yönetimine yansıtılması amaçlanmıştır.
- B) Öncelikli hedef ulusal bağımsızlığı sağlamak olmuştur.
- C) İtilaf Devletleri ile yapılacak barışın esaslarını içermektedir.
- D) Memleket ve milletin kurtuluşu için kararlar alınmıştır.

2. Yunanlar Paris Barış Konferansı'nda,

- İzmir ve civarında Rum nüfusun Türklerden daha fazla olduğunu,
- Rumların Türkler tarafından katliama maruz bırakıldığını,
- Batı Anadolu'nun tarihsel süreçte eski Yunan medeniyetine ait olduğunu ileri süren bir rapor sunmuşlardır.

**Yunanların sunduğu bu raporla ulaşmak istedikleri amaç aşağıdakilerden hangisidir?**

- A) Osmanlı Devleti'nde saltanatın sona ermesini hızlandırmak
- B) Yapacakları işgallere zemin oluşturmak
- C) Anadolu'nun tamamında hak iddia etmek
- D) Osmanlı Devleti'nden ayrılarak bağımsız bir devlet kurmak

4.

| MİLLÎ CEMİYETLER                      |  |   |
|---------------------------------------|--|---|
| ADI                                   | KURULUŞ AMACI  | FAALİYETLERİ  |
| Doğu Anadolu Müdafaa-i Hukuk Cemiyeti | Doğu Anadolu'nun Ermenilere verilmesine engel olmak amacıyla kurulmuştur.                                    | Erzurum Kongresi'nin toplanmasında etkili olmuştur. Bölgeden Türk göçünü önlemeye çalışmıştır.              |
| Kilikyalılar Cemiyeti                 | Çukurova Bölgesi'ndeki Fransız ve Ermeni işgallerini önlemek amacıyla kurulmuştur.                           | Kurulduğu bölgede Pozantı Kongresi'ni toplamış ve faaliyetlerini daha çok basın yayın yoluyla sürdürmüştür. |
| İzmir Müdafaa-i Hukuk Cemiyeti        | İzmir'in işgalini önlemek, İzmir ve Batı Anadolu'nun Yunanlara verilmesine engel olmak amacıyla kurulmuştur. | Millî Mücadele Dönemi'nde Anadolu'ya silah ve cephane taşımıştır.   |

Tabloda verilen bilgilerden hareketle millî cemiyetlerin ortak özellikleri arasında,

- I. halkı işgaller karşısında basın yoluyla bilgilendirmek,
- II. faaliyetlerini bölgesel olarak sürdürmek,
- III. Anadolu topraklarındaki işgalleri önlemek,
- IV. işgal kuvvetleri ve azınlıklara karşı birlik ve beraberlik içinde hareket etmek

durumlarından hangilerinin yer aldığı söylenemez?

- A) I ve II                      B) I ve IV                      C) II ve III                      D) III ve IV

5. Aşağıda, Maraş'ın işgali üzerine şehrin ileri gelenlerinden Aşkoğlu Hüseyin ile Fransız komutan arasında geçen bir diyaloga yer verilmiştir.

Bir bez parçasından başka bir şey olmayan bayrak için dün bu kadar gürültü yaptınız. İstesem hepinizi yok edebilirdim, yapmadım. Yarın top tüfek kullanacak olursam ne yaparsınız? Çoluk çocuğunuza acımıyor musunuz?

Her gün ölmektense bir gün ölmeyi yeğlerim. Bayrak için ölmek her Türk için şereftir.



Verilen bu diyalog dikkate alındığında,

- I. Türk milletinin bağımsızlık için ölümü göze aldığı,
- II. Fransızların Türk milletinin gücünü hafife aldığı,
- III. Fransızların Türk milletinin bağımsızlığına saygı göstermediği

çıkarımlarından hangileri yapılabilir?

- A) Yalnız I                      B) Yalnız III                      C) II ve III                      D) I, II ve III

6. **Mustafa Kemal'in 1919 yılına kadar üstlendiği bazı görevler**

| Tarih       | Görevleri   |
|-------------|---|
| Nisan 1909  | 31 Mart Ayaklanması'nı bastıran Hareket Ordusu içinde yer aldı.                               |
| Aralık 1911 | Trablusgarp'a gönüllü olarak gitti. İtalyanlara karşı yerli halkı örgütleyerek mücadele etti. |
| Ekim 1913   | Sofya ataşemilliterliğine atandı.   |
| Nisan 1915  | Çanakkale'de İtilaf kuvvetlerine karşı başarıyla mücadele etti.                               |
| Mart 1916   | Kafkas Cephesi'nde 16. Kolordu Komutanlığına atandı.  |
| Temmuz 1917 | Merkezi Şam'da bulunan 7. Ordu Komutanlığına atandı.  |

**Mustafa Kemal'in üstlendiği bu görevlere bakılarak,**

- I. Birinci Dünya Savaşı'nda birden çok cephede görev almıştır.
- II. Meşruti yapının devamını sağlayacak oluşum içinde yer almıştır.
- III. Vatanın kurtuluşu için siyasi görevler üstlenmiştir.
- IV. Askerî yetenekleri gelişmiş ve tecrübesi artmıştır.

**yargılarından hangilerine ulaşılabilir?**

- A) I ve IV                      B) II ve III  
C) I, II ve IV                 D) I, II, III ve IV

7.

**İsmet Bey'in (İnönü) Doğu Cephesi'nde Kazanılan Zaferden Sonra Kâzım Karabekir Paşa'ya Yazdığı Mektup:**

“Sevgili Kardeşim! Şark Harekâtı bizi ve davamızı ihya etti. O kadar sıkılmış idik, o kadar daralmış idik ki nefes alacak bir korunağa ihtiyacımız vardı. Allah'ın yardımıyla bunu büyük bir zaferle sen başardın.

Sen, milletimize daha büyük hizmetler edeceksin. Allah seni milletimize bağışlasın.”

**İsmet Paşa'nın Kâzım Karabekir'e yazdığı bu mektuba bakılarak,**

- I. Türk ordusu Doğu Cephesi'nde zafer elde etmiştir.
- II. Doğu Cephesi'nde yapılan mücadele sonucunda Türk tarafı rahatlatma imkânı bulmuştur.
- III. Millî Mücadele'nin ilk cephesi doğuda açılmıştır.

**yargılarından hangilerine ulaşılabilir?**

- A) Yalnız II                      B) I ve II  
C) I ve III                        D) II ve III

8. Kütahya – Eskişehir Savaşlarının kaybedilmesinin ardından TBMM’de: “Ordu nereye gidiyor? Millet nereye götürülüyor? Bu gidişin sorumluları nerededir? Onu göremiyoruz. Bugünkü acıklı ve korkunç durumun asıl sorumlusunu ordunun başında görmek isterdik.” gibi sözler ortaya atılarak Mustafa Kemal’e muhalefet şiddetlendi. Bu arada Kafkasya’da bulunan Enver Paşa ve yanlıları da Anadolu’ya girmek için fırsat bekliyorlardı. Fevzi Paşa’nın “İlerleyen Yunan ordusu mezarına yaklaşıyor.”, Mustafa Kemal’in “Düşman Anadolu’nun harim-i ismetinde (kutsal ocağında) boğulacaktır.” demesi de bu muhalefeti yatıştırmadı. Meclisin, Kayseri’ye taşınması tartışmaları başladı. Yapılan sert tartışmaların sonucunda verilen karar şuydu: Ankara, savaşmadan Yunanlara bırakılmayacaktı. Meclisin 4 Ağustos 1921 tarihindeki gizli oturumunda, bir milletvekili kürsüden, “Mustafa Kemal Paşa ordunun başına geçsin.” dedi. Bunun üzerine farklı nedenlerle de olsa Mustafa Kemal Paşa’yı sevenler ve sevmeyenlerin bu noktada birleştikleri görüldü. Sonunda, 5 Ağustos 1921’de, TBMM’de bütün yetki ve sorumluluğu tek elde toplamak amacıyla “Başkomutanlık Yasası” oy birliği ile kabul edildi. Mustafa Kemal, üç ay süreyle Başkomutanlık görevine getirildi.

**Buna göre Kütahya – Eskişehir Savaşlarının ardından içinde bulunulan durumla ilgili,**

- I. Mustafa Kemal’i alınan yenilginin sorumlusu olarak gören milletvekilleri bulunmaktadır.
- II. Düşman karşısında hızlı karar alıp uygulamaya yönelik bir gelişme yaşanmıştır.
- III. Millî Mücadele Dönemi’nin her anında düşmana karşı başarı elde edileceğine dair inanç canlı tutulmuştur.

**yargılarından hangilerine ulaşılabilir?**

- A) Yalnız I                      B) Yalnız III                      C) I ve II                      D) II ve III

9.

Kastamonu İstiklal Mahkemesi üyesi Mustafa Necati, Ilgaz’dan Kastamonu’ya gelirken yollarda rastladıklarını şöyle anlatıyor: “Bir gün evvel yağın karların doldurduğu uzun yollardan gelen mahkememiz, Çerkeş önlerinde kağnılarla cephan taşıyan bir kadın kafilesine rast gelmiştik... Biz soğuktan yamçılar altında bile titrerken, tek yorganını da arabaya örten bir ninenin çıplak ayaklarla yürüdüğünü görünce, içimden takdirle karışık bir merhamet sızladı; arkasına sardığı peştemali içinde ara sıra hıçkırarak bir çocuğun üzerine bile örtmeden, yorganını niçin arabaya serdiğini sormak fikrini duydum. Üşümez misin sen, nine? Bak çocuk donacak, yorganını örtsene! diye arabanın üstünü işaret ettim. Bu sözü garip bir tarzda karşıladı. Sormaya değer bir şey saymıyordu galiba! Benim beklediğimi anlayınca mukaddes bir şeye yüzünü döndürür gibi kağnyaya doğru konuştu: Kar sepeliyor, millet malıdır, nem kapmasın evladım, dedi ve yorganın uçlarını iyice girdi. Kar sepelemeye başlamıştı. O zaman anladım ki, cephaneleri ıslatmamak için bu fedakârlığı yapıyor, o zaman deminki merhametimden utandım bile... Aman Yarabbi! Fedakârlığını bildirmek bile istemiyor, bu alicenaplık karşısında da secde etmeyen ruh ve aşk olur mu? Tarihte böyle bir fedakârlığın bir eşini, meşhur vatansever Kartacalı kadınlar bile yaratamadılar, onlar saçlarından orduya halatlar örmüşlerdi, bunlar hayatlarından cephan veriyorlar...

**Zeki Sarıhan, Kurtuluş Savaşı Kadınları, s. 228-229. (Düzenlenmiştir.)**

**Verilen metne bakılarak Millî Mücadele Dönemi’nde Türk kadınının tutumu ile ilgili aşağıdakilerden hangisi söylenemez?**

- A) İstanbul Hükümetinden aldıkları emirleri eksiksiz yerine getirmişlerdir.  
 B) Cephe arkasında yaptıkları faaliyetlerle orduya destek olmuşlardır.  
 C) Canlarını hiçe sayarak milletin çıkarları doğrultusunda hareket etmişlerdir.  
 D) Vatanseverlik duygusuyla hareket etmişlerdir.

10.



1700'lü yıllarda Osmanlı Devleti'nin sınırlarını gösteren harita



1900'lü yılların başlarında Osmanlı Devleti'nin sınırlarını gösteren harita

1700'lü yıllarda Osmanlı Devleti'nin Balkanlarda ve Kuzey Afrika'da hâkimiyet sürdürdüğü görülürken 1900'lü yıllara gelindiğinde bu bölgelerde hâkimiyetini kaybettiği anlaşılmaktadır. Balkanlardaki toprakların azınlık isyanları nedeniyle, Kuzey Afrika'daki toprakların ise büyük devletlerin sömürgecilik faaliyetleri sonucunda elden çıktığı bilinmektedir.

**Verilen bilgilere bakılarak,**

- I. Osmanlı Devleti'nin hâkimiyet alanının daralmasında dış güçlerin etkisi olmuştur.
- II. Kuzey Afrika topraklarının kaybedilmesinde Sanayi İnkılabı'nın sonuçları etkili olmuştur.
- III. Balkanlardaki hâkimiyetin kaybedilmesi Fransız İhtilali'nin Osmanlı Devleti üzerindeki olumsuz etkilerine örnektir.

**yargılarından hangilerine ulaşılabilir?**

A) I ve II

B) I ve III

C) II ve III

D) I, II ve III

1. “Ey iman edenler! Allah için hakkı ayakta tutun, adaletle şahitlik eden kimseler olun. Herhangi bir topluluğa duyduğunuz kin, sizi adaletsiz davranmaya itmesin. Adaletli olun; bu, takvaya daha uygundur. Allah’tan korkun. Şüphesiz Allah yaptıklarınızdan haberdardır. (Mâide sûresi, 8. ayet)

**Bu ayette, evrendeki;**

- I. fiziksel,
- II. biyolojik
- III. toplumsal

**yasalardan hangileri vurgulanmaktadır?**

- A) Yalnız III.                      B) I ve II.                      C) II ve III.                      D) I, II ve III.

2. İnsan için sınırsız bir özgürlük yoktur. İnsan iradesi sayesinde davranışlarından sorumludur. İnsanın aklını kullanarak seçme ve karar verme iradesi olmasına rağmen, kendisi ile ilgili bazı durumlarda hiçbir etkisi yoktur. Sınırsız, mutlak ve sonsuz irade özgürlüğü ancak Allah (c.c.) için söz konusudur. Allah (c.c.) istediğini diler ve seçer. İnsan da Allah’ın (c.c.) kendisine tanıdığı sınırlar içerisinde iş ve davranışlarını seçer. Diğer taraftan Allah (c.c.), insanın kendi hür iradesiyle seçeceği fiil ve davranışların nerede ve ne şekilde seçileceğini sonsuz ilmiyle bilir. Bu bilgisiyle diler ve takdir eder. Zamanı gelince de insanın özgür seçimi doğrultusunda o iş ve davranışı yaratır. Allah’ın (c.c.) sonsuz ilmiyle bilmesinin insanın seçimi üzerinde bir baskısı yoktur. Aslında insan, Allah’ın (c.c.) kendisi hakkında sahip olduğu bilgiden habersizdir. Yaşarken de bu bilginin etkisinde kalmaksızın kendi iradesiyle davranmaktadır.

**Bu parçaya göre, aşağıdakilerden hangisi doğrudur?**

- A) İnsan, külli irade kapsamındaki fiillerden sorumludur.  
 B) İnsan her konuda hareket sınırlarını kendisi belirler.  
 C) Allah’ın (c.c.) bilgisinin insanın seçimleri üzerinde bir etkisi yoktur.  
 D) İnsanın sahip olduğu özgürlük sınırsızdır.

3.

### GÜN ELAZIĞ ve MALATYA İÇİN BİRLİK OLMA GÜNÜ

24 Ocak 2020 saat 20:55’te Elazığ’ın Sivrice ilçesinde 15 km derinlikte 6.8 büyüklüğünde deprem meydana geldi. Elazığ ve Malatya’da yaşanan deprem felaketinden sonra yaraları sarmak için tüm ülke seferber oldu. Dört bir kol-dan afet bölgelerine bağışlar ve yardımlar gitti. Birçok insan kurtarma faaliyetlerine gönüllü olarak katıldı. Türk milleti yine dayanışma ruhunu ortaya koydu. Depremzede vatandaşlarımıza birçok aynı ve nakdi yardım ulaştırıldı.

**Bu metnin konusu aşağıdaki kavramlardan hangisi kapsamında değerlendirilir?**

- A) Fitre                      B) Sadaka                      C) Zekât                      D) Fidyeye



4. İslam dinine göre bir kimse bakmakla yükümlü olduğu kimselere zekât ya da fitresini vermez.

**Aşağıdakilerden hangisi bu cümledeki altı çizili bölüm içinde yer almaz?**

- A) Anne  
B) Dede  
C) Torun  
D) Kardeş

5. İnsan, doğar, büyür, yaşar ve sonunda ölür. Tabiat, ilkbaharda yeşillenir, kışın kurur. Gecenin sonunu gündüz, gündüzün sonunu da gece getirir. Sonradan yaratılan her şey bir gün yok olacaktır. Allah'ın (c.c.) koyduğu varlıkların sonlu olma yasası gereğince diğer canlılar gibi insanın varlığı da bir gün son bulacaktır.

**Bu metinde anlatılanlar aşağıdakilerden hangisiyle ilişkilendirilemez?**

- A) Kader  
B) Tevekkül  
C) Ecel  
D) Ömür

6. **Aşağıdakilerden hangisi Asr sûresinde geçen mesajlardan biri değildir?**

- A) Zamanın kıymetini bilerek yaşamak.  
B) Evrensel yasalara göre yaşamak.  
C) Samimi bir şekilde iman etmek.  
D) İnsanlara gerçeği ve sabrı öğretmek.

7. Bunlar Allah'ın sınırlarıdır. Kim Allah'a ve Peygamberi'ne itaat ederse Allah onu, zeminde ırmaklar akan cennetlere koyacaktır, orada devamlı kalıcıdır; işte büyük kazanç budur. (Nisâ sûresi, 13. ayet)

Erkeklerin de kazandıklarından nasipleri var, kadınların da kazandıklarından nasipleri var. Allah'ın lütfundan isteyin; şüphesiz Allah her şeyi bilmektedir. (Nisâ suresi, 32. ayet)

**Bu ayetler, İslam'ın korumayı hedeflediği temel ilkelerden,**

- I. Neslin korunması  
II. Dinin korunması  
III. Malın korunması

**hangilerine işaret etmektedir?**

- A) Yalnız II.  
B) I ve II.  
C) II ve III.  
D) I, II ve III.

8. "Allah, kendisinden başka ilah olmayandır. Diridir, her şeyin varlığı O'na bağlı ve dayalı olandır. O'nu ne uyuklama tutabilir ne de uyku. Göklerdeki ve yerdeki her şey O'nundur. İzni olmadan huzurunda şefaate edecek olan kimdir? O, kullarının yaptıkları ve yapacakları ne varsa hepsini bilir. Onlar O'nun ilminden, kendisinin dilediği kadarından başka bir şey kavrayamazlar. O'nun kürsüsü, bütün gökleri ve yeri kaplayıp kuşatmıştır. Gökleri ve yeri koruyup gözetmek O'na güç gelmez. O, yücedir, büyüktür.

**Ayete'l-Kürsi'nin Türkçe mealindeki altı çizili bölümler Allah'ın (c.c.) isimleriyle eşleştirildiğinde aşağıdakilerden hangisi dışta kalır?**

- A) Hayy  
B) Alîm  
C) Kayyum  
D) Aliyy

9. İslam dininde bir ibadet olarak zekât ve sadakanın bireysel ve toplumsal pek çok faydası vardır.

**Bu cümleye göre aşağıdakilerden hangisi farklıdır?**

- A) Toplumsal kaynaşmayı sağlaması
- B) Ekonomik dengeyi sağlaması
- C) Sosyal adaletin tesisini sağlaması
- D) Mal ve servetin şükrünü yerine getirmeyi sağlaması

10. 16. asırda İstanbul'da bulunan Alman seyyahlar gördükleri ramazan geleneklerini şöyle anlatmaktadırlar: "Oruç zamanı yılın bolluk içinde geçen bir dönemidir. Bu yüzden de halk ramazanı büyük bir hevesle bekler. Ramazan ayında sokaktaki kedi ve köpekler de unutulmaz. Şehzade Mehmet Camisi'nin önünde her gün ikindi zamanı aç kediler toplanır. Türkler buraya gelerek onlara et ve küçük şişlere geçirilmiş kızarmış ciğer parçacıkları atarlar. Bazı kişiler de kafesteki bir kuşu satın alıp onu serbest bırakarak sevap kazanmayı umut ederler."

**Bu parça aşağıdaki kavramlardan hangisine örnek oluşturur?**

- A) Fıtır sadakası
- B) Sadaka
- C) Zekât
- D) Sadaka-i cariye

1.



Robin

At the weekend, I always get up at half past nine and have a big breakfast with my family. I'm a member of a tennis club. I go to the club after breakfast on Saturday. I play tennis for two hours at the club. Then I go back home for lunch. My mother usually cooks different traditional dishes in the world. Biryani is my favourite. It's a delicious dish from India. I usually spend time with my family in the afternoon on Saturday. We go out and have some fun activities together. On Sunday, I visit my uncle in the countryside. He lives in a village near my city. My father drives me to the village. I enjoy feeding the animals there.

Which of the following is CORRECT according to the text?

- A) Robin plays tennis on the first day of the weekend.
- B) Robin lives in a village with his uncle.
- C) He visits his uncle on the first day of the week.
- D) He has his lunch at the tennis club.

2. **Wilma** : How often do you go online, Jack?

**Jack** : Well, I use the Internet every day, but only for one hour. I try not to spend too much time there.

**Wilma** : That's great. How do you connect to the Internet?

**Jack** : I use my smartphone. It's very easy for me.

**Wilma** : What do you usually do on the Internet?

**Jack** : I search for information, follow some online courses and share videos on Instagram and Facebook.

According to the conversation, Jack

- A) is addicted to the Internet
- B) follows social media
- C) goes online once a week
- D) doesn't go online for different reasons

3.



**Alex** : Hello! Can I speak to Lora Smith, please?

**Marie** : Hello! \_\_\_\_\_?

**Alex** : Sure. I'm Alex Web from Sunset Hotel. I need to talk to her for a reservation.

**Marie** : Thanks for the information, Mr Web. \_\_\_\_\_? I'll put you through.

**Alex** : Thank you very much.

**Marie** : I'm afraid the line is engaged. \_\_\_\_\_?

**Alex**: No, I'll call back later. Have a nice day.

Which of the following questions does NOT take place in the conversation?

- A) When will she be back
- B) Can I take a message
- C) May I take your name
- D) Could you hold on a second

4.



**Andrew** : Hi, Ruby. I have a new group on Facebook. Would you like to join it?

**Ruby** : I'm sorry, but I need some details. What is it about?

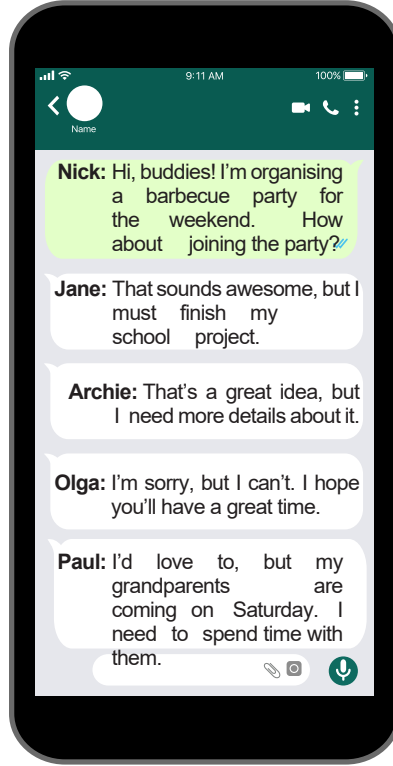
**Andrew** : It's about gardening. Are you interested?

**Ruby** : \_\_\_\_\_ . I enjoy learning new things about plants and flowers.

Which of the following completes the conversation?

- A) I'm really busy
- B) That sounds great
- C) No, thanks
- D) That's a bad idea

5. Read the conversation to answer the question.



Which of the following IS NOT true according to the information?

- A) Jane refuses Nick's invitation with a reason.
- B) Archie accepts Nick's invitation, but he needs more information about the event.
- C) Olga doesn't accept Nick's invitation because she has another plan.
- D) Paul refuses Nick's invitation because he wants to spend time with some of his relatives.

6. Gina invites one of her friends to her house for dinner. Her name is Susan. Gina wants to cook a nice meal for her. Susan never prefers vegetable dishes or Italian food. She likes red meat, but she doesn't eat white meat or seafood. She likes all kinds of dessert.

Which option should Gina choose?

- A) Mushroom Soup / Pasta
- B) Sushi / Mashed potatoes
- C) Meatballs / Pizza
- D) Steak / Pudding

7. Lucy, Yuka, Gina and Tina are friends. They want to go to a concert together. The following table shows their opinions on four types of music.

| Types of music | Lucy       | Yuka       | Gina      | Tina        |
|----------------|------------|------------|-----------|-------------|
| Rap            | energetic  | ridiculous | trendy    | unbearable  |
| Pop            | unbearable | terrific   | exciting  | boring      |
| Classical      | impressive | boring     | relaxing  | ridiculous  |
| Folk           | harmonic   | terrific   | energetic | interesting |

Which of the following concerts can they go together according to the table?

- A) Rap Music Concert  
B) Pop Music Concert  
C) Classical Music Concert  
D) Folk Music Concert

8.



Hi, my name is Kylie. I'm crazy about using the Internet. I mostly use the Internet to chat with my friends, watch movies and videos, search for information and download songs. I usually download 25 to 50 songs every month. When I am at home, I use my tablet or my father's laptop to surf the Internet. However, my father doesn't want to give his laptop to me, because he has to pay the bills.

Which of the following question DOESN'T Kylie answer?

- A) Which device do you usually prefer when you use the Internet?  
B) For what purposes do you use the Internet?  
C) How many songs do you download from the Internet per month?  
D) How often do you pay the bills on the Internet?

9. You are working as a secretary at a bank and someone is calling to talk to the manager, Mr. Jones. You ask the caller to wait on the line. You say: .....

**Which of the following option completes the blank correctly?**

- A) Hang up the phone, please. Mr. Jones is out of his office this week.  
B) Hold on a minute, please. I'm putting you through.  
C) Hang on a minute, please. I'm afraid, the secretary has gone out.  
D) I'm afraid, he isn't available at the moment. Would you like to leave a message?

10. **Yuka** : Is it easy to make honey pancakes?

**Stella** : Yes, sure. I can help you. All you need is to follow some simple steps. First, heat four cups of honey, butter and cinnamon in a pan over low heat to make the syrup.

**Yuka** : Wait! What are the other ingredients?

**Stella** : Well, one cup of milk and two eggs.

**Which of the following is NOT mentioned in the conversation?**

